

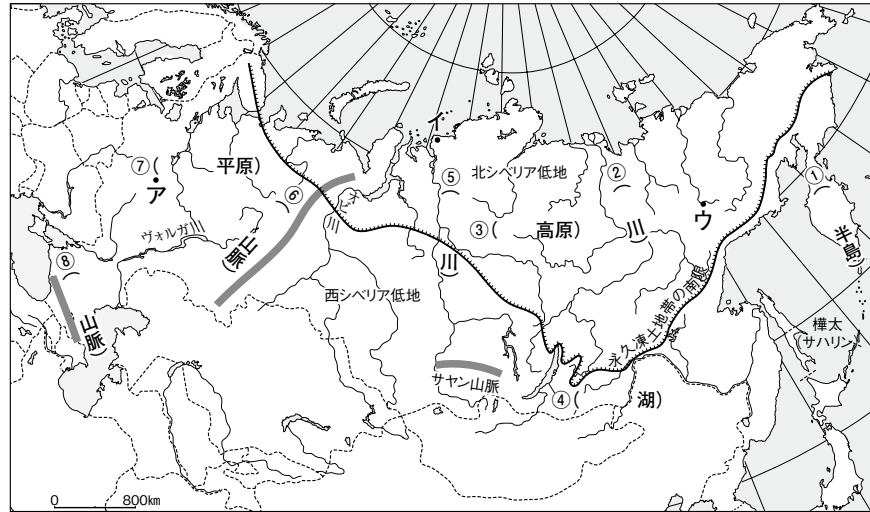
地誌を極める！ ロシア編

ウォーミングアップ！

●世界最大の陸地面積を有する国の地形

1. 次の①～⑧にあてはまる語句を書き入れよう。

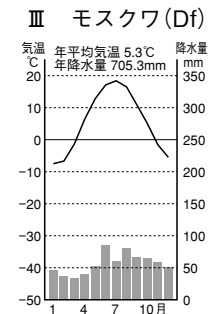
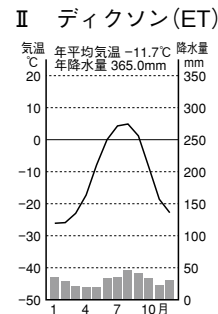
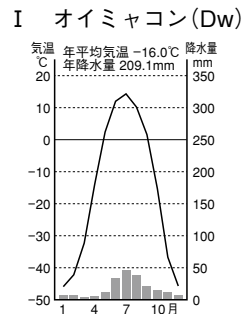
- ① () 半島
- ② () 川
- ③ () 高原
- ④ () 湖
- ⑤ () 川
- ⑥ () 山脈
- ⑦ () 平原
- ⑧ () 山脈



●ロシアのきびしい気候

2. 次のI、II、IIIの雨温図は、上の図のア、イ、ウのどの都市のものか、()に書き入れよう。

- I ()
- II ()
- III ()



3. 上の図の永久凍土地帯の南限を青でたどろう。


●気候に対応した農業

4. 次の文の空欄に下の□から一つずつ選んで、書き入れよう。

- 北部のツンドラ地帯……… (①)) の遊牧
- ウラル山脈以東……… (②)) とよばれる針葉樹の森林地帯
- ウラル山脈以西の農業地域……首都モスクワを中心とする地域は、耕作と家畜の飼育を合わせた (③)) 地帯である。
- ロシア南西部に広がるステップ地帯……… (④)) とよばれる肥沃な黒土が広がり、小麦などが栽培される重要な穀倉地帯である。ここでは、ロシアで主要な作物、a.ライ麦、b.じゃがいも、c.ひまわりの種子、d.てんさいなども栽培されている。これら四つの作物は、世界的な生産量をもつ。

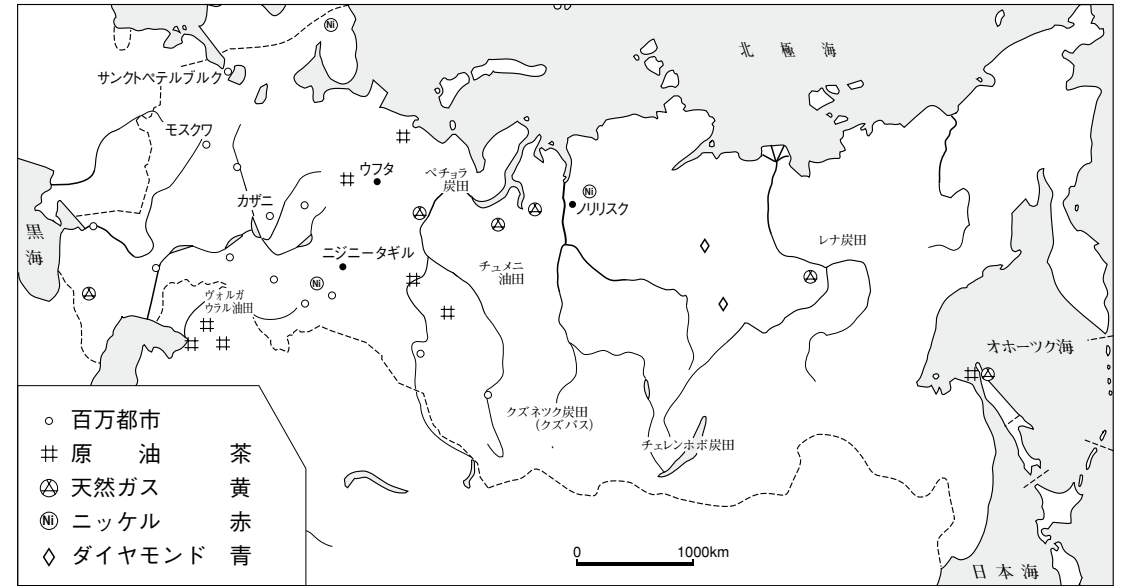
アルパカ トナカイ タイガ セルバ チェルノーゼム ボドゾル 遊牧 混合農業

5. 下のI～IVは、ある作物の生産量(2009年)を表している。上のa～dの作物のどれか記号で答えよう。



ステップアップ! ●資源大国ロシア

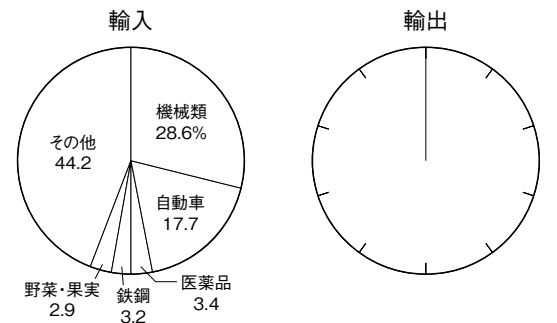
6. ロシアの鉱工業を示した地図で、世界的な生産高をもつ重要な鉱産物の凡例を指定された色で囲ってみよう。
生産高 世界1位 原油 天然ガス ニッケル ダイヤモンド



7. ロシア経済にとってとくに重要なのは、原油と天然ガスである。原油、天然ガス関連が輸出に占める割合は大きい。次の表で、輸入の円グラフにならって、輸出の円グラフを作成してみよう。そして、作成した円グラフの原油と天然ガスの部分を赤でぬってみよう。

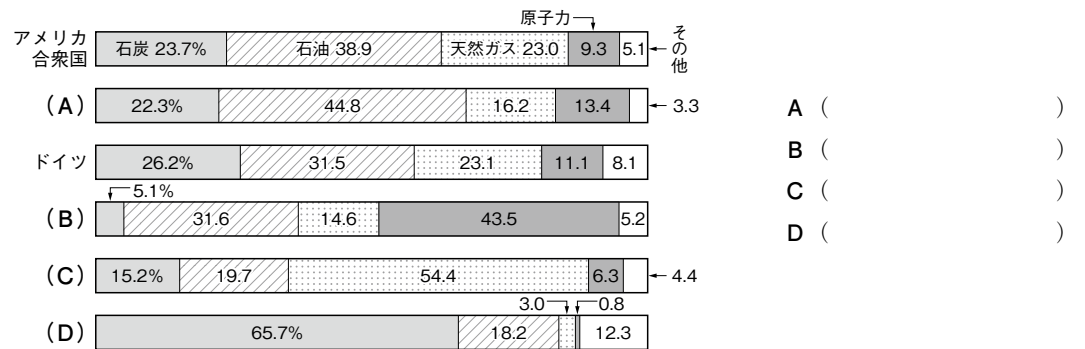
ロシア(2008年)

輸入 総額2670.51億ドル		輸出 総額4679.94億ドル	
品目	割合(%)	品目	割合(%)
機械類	28.6	原油	32.4
自動車	17.7	石油製品	16.9
医薬品	3.4	天然ガス	14.2
鉄鋼	3.2	鉄鋼	6.1
野菜・果実	2.9	化学肥料	2.5
その他	44.2	その他	27.9



●国別一次エネルギー供給構成

8. 世界の一次エネルギー供給量は、世界第1位がアメリカ合衆国、第2位が中国、第3位がロシアである。下のグラフは、主要国の一次エネルギー供給構成を表している。A～Dは、日本、フランス、中国、ロシアのどれかを表したものである。それぞれどの国を表しているか国名を書こう。



ジャンプアップ!

●ロシアの歴史

9. 下の文章の①～⑪にあてはまる語句を下の□から選び、記号で答えよう。

ロシアは、1917年の(①)を経て、1922年、世界初の(②)国家として誕生した「(③)」という国のなかの一つの共和国である。(②)の国では土地や工場すべてが国有で、国家の計画のもとで経済活動が行われていた。これを(④)という。この当時、世界は、いわゆる東西陣営に2分されており、(③)が(②)陣営の筆頭として、東ヨーロッパの国々を従え、(⑤)が日本や西ヨーロッパの国々とともに(⑥)陣営を率いていた。(⑥)では経済活動は市場原理にゆだねられ、人々は自由に金儲けができる反面、貧乏になることもあった。これを(⑦)という。両陣営の宇宙開発や核開発での対立は激しく、軍事衝突の危険もあり、(⑧)と表現された。

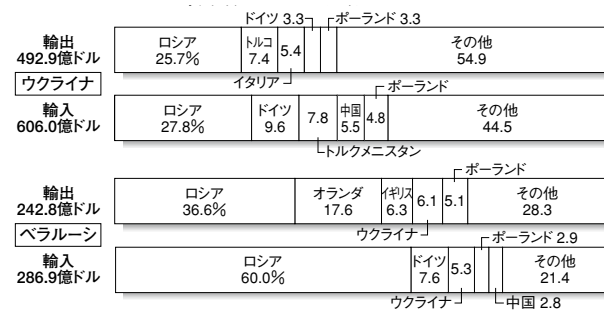
しかし、1980年代になると(③)では社会や経済がしだいに行き詰まるようになり、1991年(③)は解体し、ロシアなど15の共和国が独立した。そのなかのバルト3国(リトアニア、ラトビア、エストニア)を除いた11の国は、「独立国家共同体(⑨)」というゆるやかな結びつきの国家連合をつくった。市場経済を導入した新体制ロシアは、2000年代になるとめざましい経済成長をとげ、成長著しい(⑩)の一角として、注目されている。しかし、貧富の格差や(⑪)紛争など、問題も山積している。

- | | | | |
|----------|----------|----------------------|------------|
| a. 資本主義 | b. 社会主義 | c. ソ連(ソビエト社会主義共和国連邦) | d. アメリカ合衆国 |
| e. チェチェン | f. ロシア革命 | g. 市場経済 | h. 計画経済 |
| k. 東西冷戦 | i. BRICs | j. CIS | |

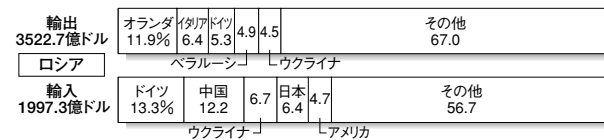
●ロシアの対外関係

10. 次の設問に答えよう。

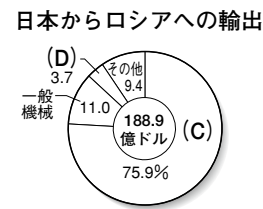
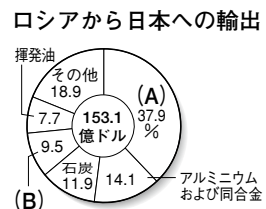
① [旧ソ連諸国との関係] 旧ソ連から独立した以下の国の貿易相手国のなかで、ロシアの占める部分を赤色で着色しよう。



② [EUとの関係] ロシアの貿易相手国のグラフで、EUに属する国を青色で着色しよう。



③ [日本との関係] 日本との貿易品目を示したグラフの空欄に、A～Dにあてはまるものを下の□から選び、書き入れよう。



- A ()
 B ()
 C ()
 D ()

- | | | | |
|----|-----|------|-----|
| 原油 | 自動車 | 電気機械 | 魚介類 |
|----|-----|------|-----|

解 答

ウォーミングアップ!

●世界最大の陸地面積を有する国の地形

1. ① (カムチャツカ 半島) ② (レナ 川) ③ (中央シベリア 高原)
 ④ (バイカル 湖) ⑤ (エニセイ 川) ⑥ (ウラル 山脈)
 ⑦ (東ヨーロッパ 平原) ⑧ (カフカス 山脈)

●ロシアのきびしい気候

2. I (ウ) II (イ) III (ア)
 3. 略

●気候に対応した農業

4. ① (トナカイ) ② (タイガ) ③ (混合農業) ④ (チェルノーゼム)
 5. I (a) II (c) III (d) IV (b)

ステップアップ!

●資源大国ロシア

6. 略
 7. 略

●国別一次エネルギー供給構成

8. A (日本) B (フランス)
 C (ロシア) D (中国)

ジャンプアップ!

●ロシアの歴史

9. ① (f) ② (b) ③ (c) ④ (h)
 ⑤ (d) ⑥ (a) ⑦ (g) ⑧ (k)
 ⑨ (j) ⑩ (i) ⑪ (e)

●ロシアの対外関係

10.
 ① 略
 ② 略
 ③ A (原油) B (魚介類) C (自動車) D (電気機械)