

地誌を極める！ ラテンアメリカ編

ウォーミングアップ！

●ラテンアメリカの地形

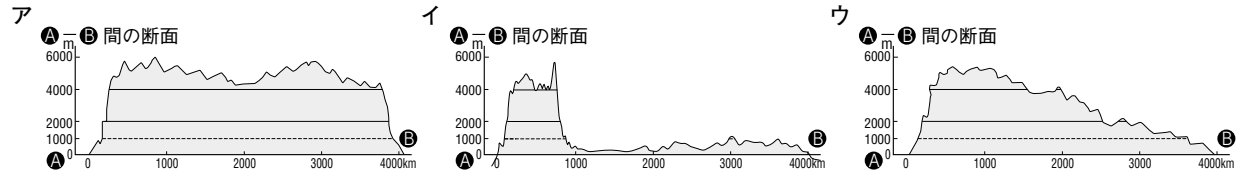
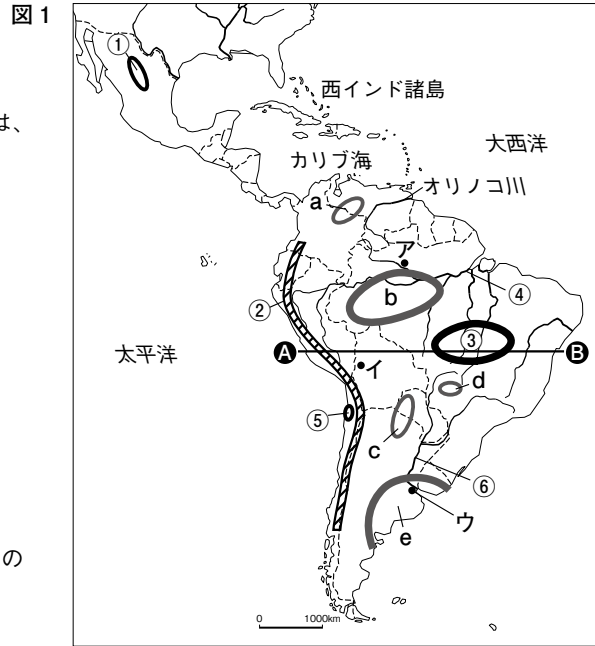
1. 図1の①～⑥にあてはまる語句を書き入れよう。a～eは、下の□から一つずつ選んで、答えよう。

- ① (高原) ② (山脈)
 ③ (高原) ④ (川)
 ⑤ (砂漠) ⑥ (川)

グランチャコ セルバ パンパ カンボ リャノ

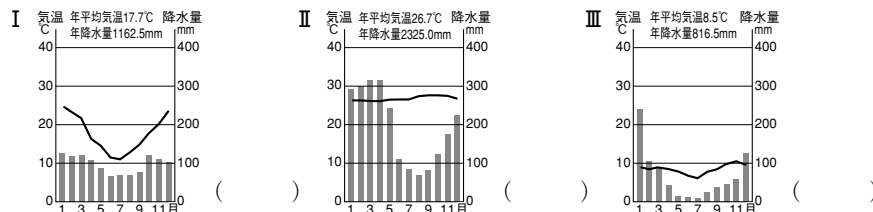
- a () b ()
 c () d ()
 e ()

2. 図1に赤道を赤でかき入れよう。
 3. A～B間の断面図は次のア～ウのうちどれか、正しいものを一つ選び、記号に○をつけよう。



●ラテンアメリカの多様な気候


4. 次のI、II、IIIの雨温図は、図1のア、イ、ウのどの都市のものか、() に書き入れよう。




●ラテンアメリカの砂漠の成因

5. 下のA～Dの成因は次の四つの砂漠または地域のものを示している。サハラ砂漠、ゴビ砂漠、アタカマ砂漠、パタゴニア地方のものを、それぞれ選び、A～Dの記号で答えよう。


A 雨陰砂漠ができるしくみ




B 回帰線砂漠ができるしくみ



C 海岸砂漠ができるしくみ



D 内陸砂漠ができるしくみ



- サハラ砂漠 ()
 ゴビ砂漠 ()
 アタカマ砂漠 ()
 パタゴニア地方 ()

ステップアップ！

●ラテンアメリカの農業

6. 次の文の①～⑥を下の□から選んで、書き入れよう。

ラテンアメリカでは、スペインやポルトガルからもちこまれた大土地所有制による大農園（1万ha以上）での農業が行われてきた。よび方は国で異なり、メキシコ、ボリビア、ペルー、チリでは（①）、アルゼンチンではエスタンシア、ブラジルでは（②）とよばれる。熱帯の海岸に近い地域では、プランテーションがみられる。また、パンパでは、（③）の栽培や、（④）の放牧が大規模に行われている。なかでも、ブラジルの（⑤）生産は世界的である。ブラジルでは近年（⑥）生産も増加がいちじるしい。

ファゼンダ アシエンダ 米 大豆 コーヒー 小麦 豚 牛

7. アルゼンチンとブラジルは、重要な農産物輸出国である。下の2009年作物輸出量の表でA、Bはアルゼンチンか、ブラジルをさしている。A、Bの国名を答えよう（単位、万t）。

とうもろこし			大豆			小麦			砂糖		
順位	国名	輸出量	順位	国名	輸出量	順位	国名	輸出量	順位	国名	輸出量
1	アメリカ合衆国	5409	1	アメリカ合衆国	3400	1	アメリカ合衆国	3407	1	A	1952
2	B	1538	2	A	2450	2	フランス	1739	2	タイ	503
3	A	643	3	B	1173	3	カナダ	1605	3	インド	333
4	フランス	614	4	パラグアイ	369	4	ロシア	1235	4	フランス	204
5	インド	354	5	カナダ	185	5	B	1015	5	グアテマラ	130

A () B ()

●ラテンアメリカの人種構成とおもな言語

8. 次の文A、Bの①～⑥を下の□から選んで、書き入れよう。

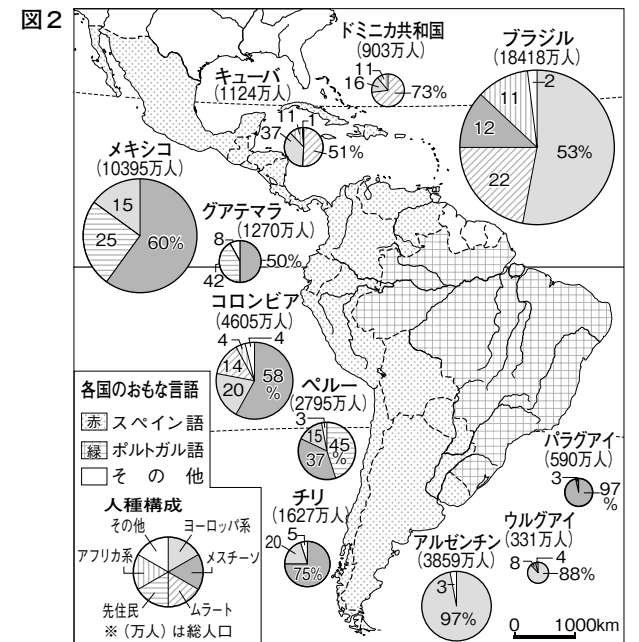
A. ラテンアメリカの人々は、先住民と、奴隷として連れてこられた（①）系、植民地化するために移住してきた（②）系の人々、さらにこれらの人々が混血することにより、人種構成は多様である。大航海時代に進出してきたスペインとポルトガルは、1494年には、トルデシリャス条約で、西経45度付近に領土分界線を定めた。この結果、公用語は、ブラジルが（③）語、その他が（④）語となっている。

ヨーロッパ スペイン ポルトガル アフリカ

B. 一般に、ヨーロッパ系と先住民の混血は（⑤）、ヨーロッパ系とアフリカ系の混血は（⑥）とよばれている。しかし、混血の人々のよび方は、地域によって、また混血の割合によって、さまざまである。

ムラート ムスリム
メスチーソ ヒスパニック

9. 図2の地図で、公用語がスペイン語の国を赤で、ポルトガル語の国を緑でぬろう。また、人種構成のグラフの先住民を黄、ヨーロッパ系をピンク、混血はそれぞれムラートを橙、メスチーソを青で色分けしよう。



ジャンプアップ!


●ラテンアメリカの鉱工業

10. 次の文の①～④を下の□から選んで、書き入れよう。

ラテンアメリカは、豊富な地下資源を有する。ブラジルの(①)、チリの(②)、メキシコの(③)はとくに有名である。鉱産資源だけでなく農産物など特定の一次産品の輸出に経済が大きく依存するモノカルチャーとして発展してきたが、20世紀以降は輸入代替型工業の発達と外国資本の導入により、地域開発と工業化が行われた。とくに世界で5番目の広さをもつブラジルの経済発展はめざましく、ロシア、インド、中国とともに4国の頭文字を使い(④)とよばれるようになった。

- 銅 石油 鉄鉱石 BRICs NAFTA

11. おもな国の輸出品目の変化をみたのが下図である。モノカルチャーから脱却できていない国もあるが、一次産品から工業製品への移行をみとめることができる。機械類、自動車、精密機械を赤でぬてみよう。

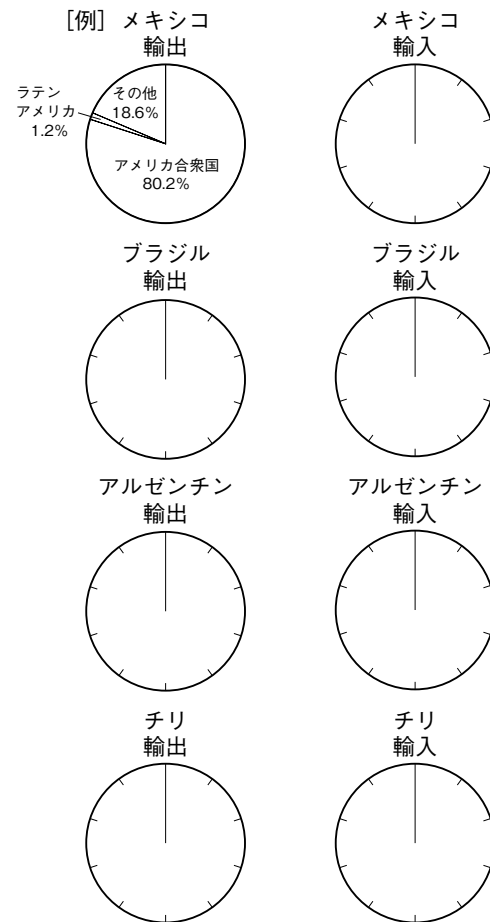


●ラテンアメリカの貿易相手国

12. 下の表から例を参考にして、円グラフを作成しよう。アメリカ合衆国、中国、ラテンアメリカ諸国、その他に分けて記入しよう。

主要国の相手先別貿易(2008年)

		輸出		輸入		
		百万ドル	%	百万ドル	%	
メキシコ	アメリカ合衆国	233523	80.2	アメリカ合衆国	151335	49.0
	カナダ	7102	2.4	中国	34690	11.2
	ドイツ	5008	1.7	日本	16282	5.3
	スペイン	4233	1.5	韓国	13548	4.4
	ブラジル	3367	1.2	ドイツ	12606	4.1
	計	291343	100.0	計	308603	100.0
ブラジル	アメリカ合衆国	27735	13.7	アメリカ合衆国	31121	14.9
	アルゼンチン	17606	8.7	中国	24184	11.6
	中国	16403	8.1	アルゼンチン	16551	7.9
	オランダ	10483	5.2	ドイツ	14565	7.0
	ドイツ	8851	4.4	日本	8328	4.0
	計	202579	100.0	計	208979	100.0
アルゼンチン	ブラジル	13260	18.9	ブラジル	17977	31.3
	中国	6390	9.1	中国	7104	12.4
	アメリカ合衆国	5514	7.9	アメリカ合衆国	7023	12.2
	チリ	4717	6.7	ドイツ	2534	4.4
	オランダ	2959	4.2	パラグアイ	1783	3.1
	計	70021	100.0	計	57423	100.0
チリ	中国	9980	14.8	アメリカ合衆国	7294	16.7
	アメリカ合衆国	8420	12.5	中国	4886	11.2
	日本	7091	10.5	ブラジル	4501	10.3
	オランダ	3909	5.8	アルゼンチン	4347	9.9
	韓国	3849	5.7	ペルー	1687	3.9
	計	67498	100.0	計	43797	100.0



解 答

ウォーミングアップ!

●ラテンアメリカの地形

- ① (メキシコ 高原) ② (アンデス 山脈) ③ (ブラジル 高原)
④ (アマゾン 川) ⑤ (アタカマ 砂漠) ⑥ (ラプラタ 川)
a (リャノ) b (セルバ) c (グランチャコ)
d (カンボ) e (パンパ)
- 省略
- イ

●ラテンアメリカの多様な気候

- I (ウ) II (ア) III (イ)

●ラテンアメリカの砂漠の成因

- サハラ砂漠 (B) ゴビ砂漠 (D)
アタカマ砂漠 (C) パタゴニア地方 (A)

ステップアップ!

●ラテンアメリカの農業

- ① (アシエンダ) ② (ファゼンダ) ③ (小麦)
④ (牛) ⑤ (コーヒー) ⑥ (大豆)
- A (ブラジル) B (アルゼンチン)

●ラテンアメリカの人種構成とおもな言語

- ① (アフリカ) ② (ヨーロッパ) ③ (ポルトガル)
④ (スペイン) ⑤ (メスチーソ) ⑥ (ムラート)
- 省略

ジャンプアップ!

●ラテンアメリカの鉱工業

- ① (鉄鉱石) ② (銅) ③ (石油)
④ (BRICs)
- 省略
- 省略